

SECRETARIA MUNICIPAL DE EDUCAÇÃO  
ATIVIDADES COMPLEMENTARES DE ESTUDO – COVID 19  
**8º ROTEIRO DE ATIVIDADES COMPLEMENTARES DE ESTUDO – COVID 19**

**ESCOLA MUNICIPAL GERALDA CHAVES TIRADENTES**

**PROFESSOR: ADRIANA REGINA**

**COMPONENTES CURRICULARES: LÍNGUA PORTUGUESA, MATEMÁTICA E PSICOMOTRICIDADE**

**TURMA: SALA DE RECURSOS – 1º ANO**

**PERÍODO DE REALIZAÇÃO: 19/04 A 23/04**

**ALUNO (A): \_\_\_\_\_**

**Senhores pais e responsáveis**

No roteiro a seguir estão as atividades e todas as orientações para sua execução. Tudo está descrito de forma simples. Mas se houver alguma dúvida podem entrar em contato comigo pelo *Whatsapp*, estarei à disposição para ajudar.

Seu filho deverá realizar todas as atividades **nas folhas impressas**. Cuidem-se e cuidem de sua família. Em breve tudo estará bem.

Um abraço,

**Professora Adriana Regina**

<b>APRESENTAÇÃO DO PROFESSOR</b>	OLÁ QUERIDO (A) ALUNO (A)!  VOCÊ DEVERÁ OUVIR O ÁUDIO EXPLICATIVO QUE ESTÁ DISPONÍVEL EM NOSSO GRUPO PARA REALIZAR AS ATIVIDADES.
<b>O QUE VOCÊ VAI ESTUDAR:</b>	- INICIAL COM AS VOGAIS - QUANTIDADES, SÍMBOLOS NUMÉRICOS E FORMA GEOMÉTRICA - LATERALIDADE: DENTRO E FORA / COLAGEM - PSICOMOTRICIDADE: TRAÇADO E COMPLETE
<b>PARA QUE VAMOS ESTUDAR ESSES CONTEÚDOS?</b>	- RECONHECER SONS E IMAGENS CORRESPONDENTES AS VOGAIS - CONHECER OS NÚMEROS EM SITUAÇÃO DE CONTAGEM - DESENVOLVER NOÇÕES DE DENTRO E FORA E COORDENAÇÃO - TRABALHAR O MOVIMENTO E A COORDENAÇÃO MOTORA FINA
<b>ATIVIDADE PARA REALIZAR ESSA ATIVIDADE VOCÊ PRECISARÁ DE ALGUNS MATERIAIS:</b>	AS ATIVIDADES SERÃO REALIZADAS COM MATERIAL IMPRESSO, PROPOSTOS NOS ROTEIROS ENVIADOS PARA OS ALUNOS.

ASSISTA O VÍDEO DA MÚSICA DAS VOGAIS E DEPOIS RESOLVA O EXERCÍCIO ABAIXO:

**LINK DO VÍDEO E LETRA DA MÚSICA:**

<https://www.youtube.com/watch?v=IFm3SRDPZ60>



**AEIOU**

**GRUPO TRIII**

PROCURANDO BEM  
EU SEI QUE TEM  
NO INÍCIO DO AMOR  
EU VEJO **A, A, A, A**

PROCURANDO BEM  
EU SEI QUE TEM  
NO PÉ DO CAFÉ  
EU VEJO **E, E, E, E**

PROCURANDO BEM  
EU SEI QUE TEM  
NO FIM DO PIAUÍ  
EU VEJO **I, I, I, I**

PROCURANDO BEM  
EU SEI QUE TEM  
NAS PONTAS DO OVO  
EU VEJO **O, O, O, O**

PROCURANDO BEM  
EU SEI QUE TEM  
NO MEIO DA LUA  
EU VEJO **U, U, U, U**

**A, A, A, A**

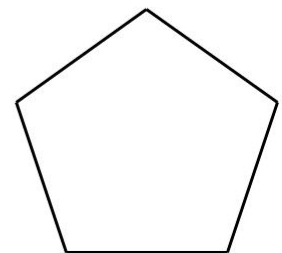
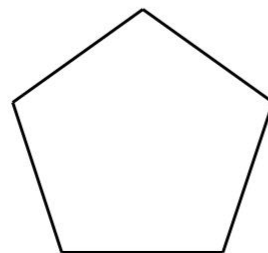
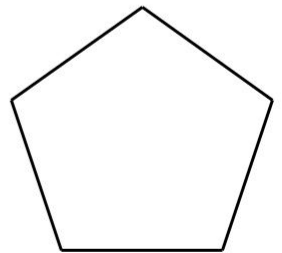
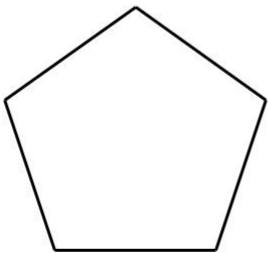

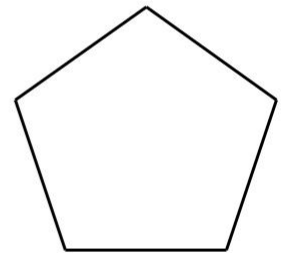
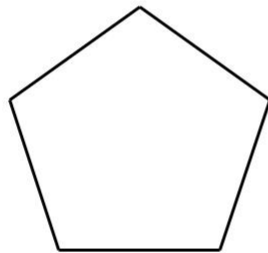

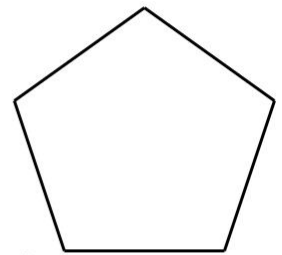

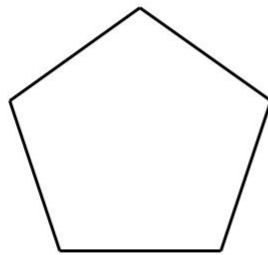
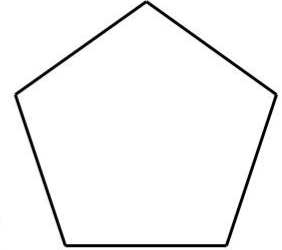
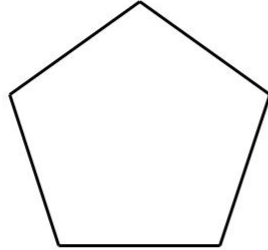
**E, E, E, E**

**I, I, I, I**

**O, O, O, O**


**U, U, U, U**

ESCREVA A LETRA INICIAL DE CADA FIGURA:




**QUANTOS ANIMAIS TEM?**


CONTE OS ANIMAIS E PINTE O CÍRCULO DO NUMERAL CORRESPONDENTE À QUANTIDADE DE ANIMAIS ABAIXO.




5      3      7




5      9      1




2      4      6



3      7      4




9      1      8



9      5      8

LATERALIDADE:

Divertindo-se na praia...



REPRESENTE COM O NUMERAL NO QUADRADO E DEPOIS COM PALITOS DE FÓSFORO COLANDO-OS AO LADO:

- QUANTAS PESSOAS ESTÃO FORA DA ÁGUA?

- QUANTAS BOIAS ESTÃO DENTRO DA ÁGUA?



**PSICOMOTRICIDADE:**

TRACE OS PONTILHADOS DE UMA ESCADA E COMPLETE A OUTRA SEGUINDO OS PONTOS PRETOS:

